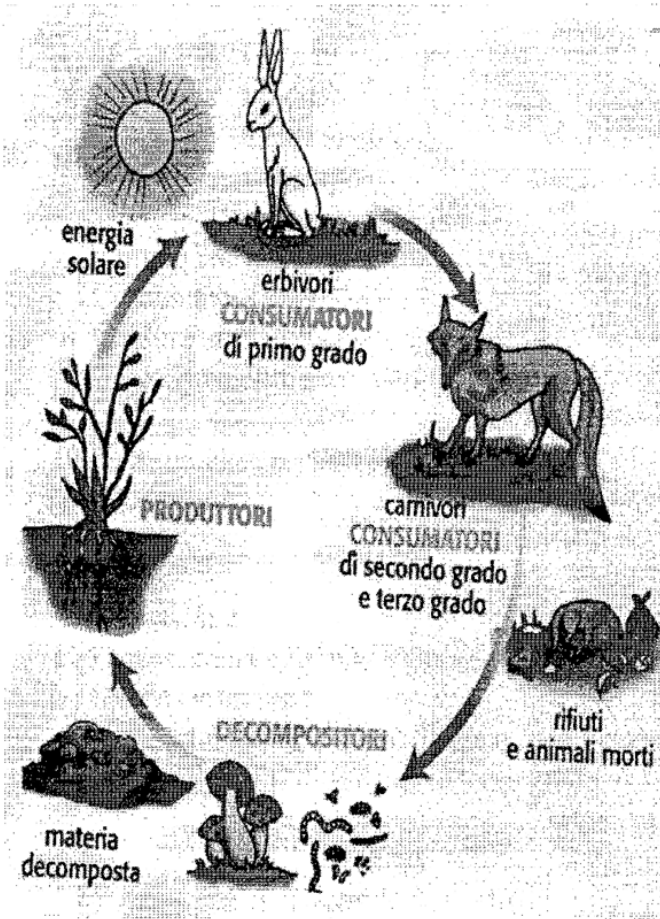


PROVA QUADRIMESTRALE DI SCIENZE- 2° Quadrimestre -a.s.2018/2019

NOME E COGNOME..... DATA.....CLASSE 3^

Osserva attentamente l'immagine e rispondi alle domande:



1. I produttori assorbono dal terreno
 - l'energia solare
 - i sali minerali e l'acqua per fabbricarsi il nutrimento
 - solo l'acqua
2. I consumatori primari si nutrono di
 - vegetali
 - di altri animali
 - di rifiuti o di animali morti
3. I funghi sono decompositori e hanno il compito di
 - fornire cibo ai consumatori di secondo grado
 - decomporre animali morti e rifiuti
 - fornire energia ai consumatori di primo grado

4. I consumatori di secondo e terzo grado si nutrono di
 - esclusivamente di vegetali
 - di materia decomposta
 - di consumatori di primo grado

5. Le piante sono dei
 - produttori
 - consumatori
 - decompositori


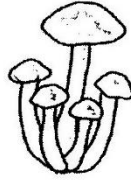


6. Il coniglio è un
 - produttore
 - consumatore
 - decompositore



7. La volpe è
- produttore
 - consumatore
 - decompositore

8. I funghi sono
- produttori
 - consumatori
 - decompositori




9. Il bruco che mangia la foglia è
- consumatore terziario
 - consumatore primario
 - consumatore secondario

10. I consumatori primari si nutrono di
- altri animali
 - insetti
 - vegetali


11. L'ecosistema è formato
- solo da erbivori
 - dalle relazioni che si stabiliscono tra gli esseri viventi, non viventi e l'ambiente in cui vivono
 - da consumatori di secondo e terzo grado

12. I vertebrati



- hanno lo scheletro interno
- hanno una struttura ossea solo negli arti
- non hanno lo scheletro interno

13. Gli invertebrati




- hanno lo scheletro interno
- hanno una struttura ossea solo negli arti
- non hanno lo scheletro interno

14. Il lombrico è

- un consumatore terziario
- un invertebrato
- un vertebrato

15. Il cavallo è

- un invertebrato
- un vertebrato
- un decompositore



SCIENZE

OBIETTIVO VERIFICATO:

Conoscere gli organismi che formano la catena alimentare e distinguere vertebrati ed invertebrati

CRITERI DI VALUTAZIONE:

Valutazione relativa a 15 item

0 errori = 10 votazione

1 errore =9

2 errori = 8

3 errori= 7

4-5 errori =6

7 o più errori =5