

ISTITUTO COMPRENSIVO " UGO FOSCOLO" DI VESCOVATO

VERIFICA DI STORIA

PRIMO QUADRIMESTRE SC. PRIMARIA DI OSTIANO cl.2°

OB: INDIVIDUARE DURATE UGUALI O DIVERSE RILEVABILI DALL' ESPERIENZA  
QUOTIDIANA

VALUTAZIONE:

0 ERRORI : 10

1 ERRORE: 9

2 ERRORI: 8

3 ERRORI: 7

4 ERRORI: 6

5 ERRORI: 5

ASCOLTARE UNA LEZIONE A SCUOLA

ORA RIORDINA DALLA DURATA MINORE ALLA MAGGIORE

---

TEMPERARE LA MATITA

PRANZARE

FARE LA MERENDA

GIRARE LA PAGINA DEL QUADERNO

---

FARE UN RESPIRO

ALLACCIARSI LE SCARPE

FARE UNA LEZIONE DI MOTORIA

FARE UNA PARTITA AL GIOCO DEI CASTELLI

---

SOFFIARSI IL NASO

ESSERE VISITATI DAL DOTTORE

AVERE L' INFLUENZA

BERE UNA SPREMUTA

---

RIVERNICIARE L' AUTO

ACCENDERE L' AUTO

LAVARE L' AUTO

FARE BENZINA ALL' AUTO

---

RIPORRE UN LIBRO NELLA LIBRERIA

FARE I COMPITI A CASA

LEGGERE UN LIBRO

LEGGERE UNA PAROLA

---

MANGIARE UN GELATO

COSTRUIRE UN CASTELLO DI SABBIA

LANCIARE LA PALLA

FARE UNA FORMINA DI SABBIA

ISTITUTO COMPRENSIVO " UGO FOSCOLO" DI VESCOVATO

**VERIFICA DI SCIENZE**

PRIMO QUADRIMESTRE SC. PRIMARIA DI OSTIANO cl.2°

OB: CONFRONTARE ORGANISMI VIVENTI E COGLIERNE LE DIFFERENZE,  
UGUAGLIANZE E SOMIGLIANZE (I PESCI)

VALUTAZIONE :

0 ERRORI 10

1 ERRORE 9

2 ERRORI 8

3 ERRORI 7

4-5 ERRORI 6

6 ERRORI 5

ISTITUTO COMPRENSIVO " UGO FOSCOLO" DI VESCOVATO

**VERIFICA DI SCIENZE : I PESCI**

PRIMO QUADRIMESTRE SC. PRIMARIA DI OSTIANO cl.2°

ALUNNO: ..... DATA: .....

COMPLETA

I PESCI HANNO IL CORPO .....

LO SCHELETRO PUO' ESSERE FORMATO DA .....O DA .....

IL CORPO HA FORMA .....

LA PELLE E' RIVESTITA DI .....

RESPIRA CON LE .....PROTETTE DAGLI .....

I PESCI NUOTANO CON LE .....E LA .....  
CHE SQUALI E RAZZE NON HANNO.

I PESCI HANNO LA STESSA TEMPERATURA DELL' ESTERNO CIOE' SONO  
.....

LE PINNE SI CHIAMANO .....

ISTITUTO COMPRENSIVO " UGO FOSCOLO" DI VESCOVATO

VERIFICA DI GEOGRAFIA

PRIMO QUADRIMESTRE SC. PRIMARIA DI OSTIANO cl.2°

OB: DESCRIVERE PERCORSI NELLO SPAZIO UTILIZZANDO CORRETTAMENTE GLI  
INDICATORI TOPOLOGICI

1) DESCRIVI IL PERCORSO DEL BAMBINO DALLA GELATERIA ALLA FONTANA  
PASSANDO DAVANTI ALLA SCUOLA.

2) DESCRIVI IL PERCORSO DEL BAMBINO DALLA PIZZERIA ALLA PASTICCERIA  
PASSANDO DAVANTI ALLA POSTA.

VALUTAZIONE:

0 ERRORI : 10

1 ERRORE: 9

2 ERRORI: 8

3 ERRORI: 7

4 ERRORI: 6

5 ERRORI: 5

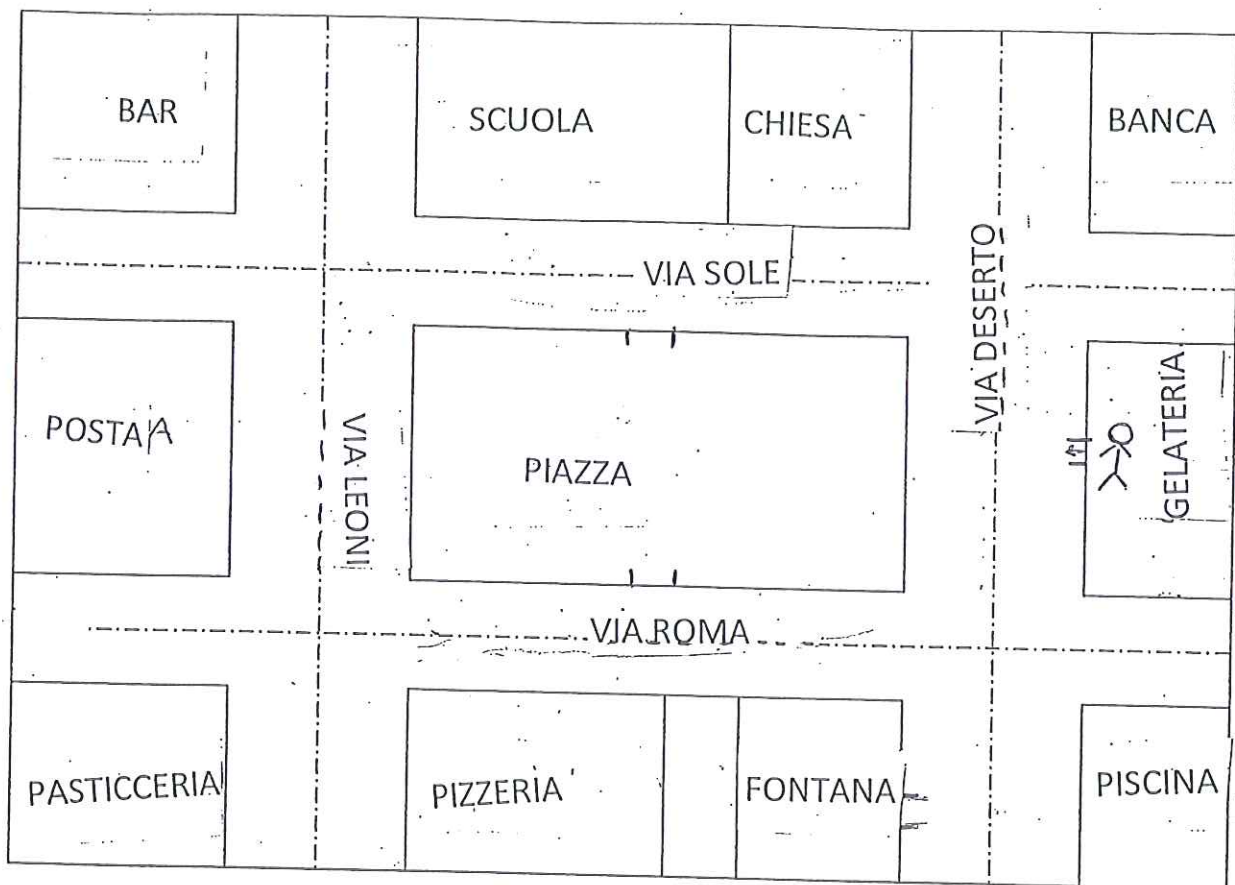
VERIFICA DI GEOGRAFIA : I PERCORSI

PRIMO QUADRIMESTRE SC. PRIMARIA DI OSTIANO cl.2°

ALUNNO: .....

DATA: .....

1) DESCRIVI IL PERCORSO DEL BAMBINO DALLA GELATERIA ALLA FONTANA  
PASSANDO DAVANTI ALLA SCUOLA.



---

---

---

---

---

---

---

---

ISTITUTO COMPRENSIVO " UGO FOSCOLO" DI VESCOVATO

VERIFICA DI STORIA

PRIMO QUADRIMESTRE SC. PRIMARIA DI OSTIANO cl.2°

OB: UTILIZZARE STRUMENTI CONVENZIONALI PER LA MISURAZIONE DEL TEMPO: L'  
OROLOGIO

VERIFICA N° 1 " L' OROLOGIO"

SCRIVI L' ORARIO CON I NUMERI E CON LE PAROLE

VERIFICA N° 2 " L' OROLOGIO"

METTI LE LANCETTE

VALUTAZIONE:

0 ERRORI : 10

1 ERRORE: 9

2 ERRORI: 8

3 ERRORI: 7

4 ERRORI: 6

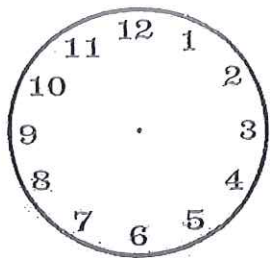
5 ERRORI: 5



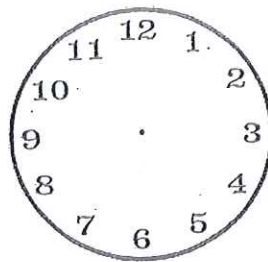
ALUNNO: .....

DATA: .....

METTI LE LANCETTE



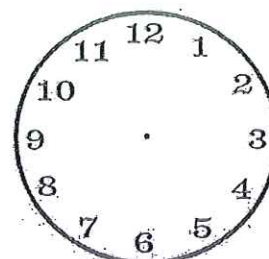
4.10



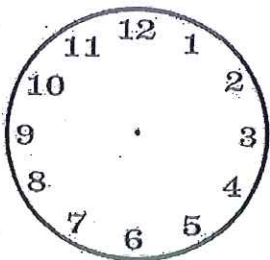
17.40



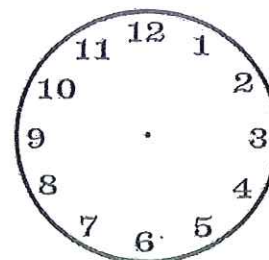
13.00



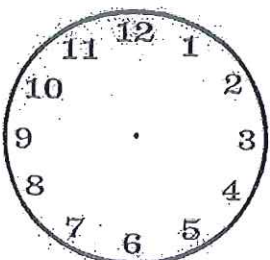
15.20



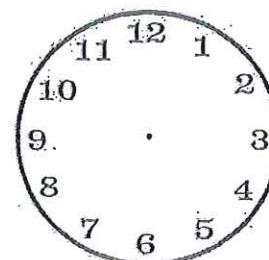
6.30



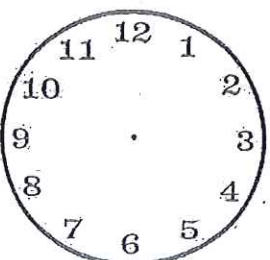
18.50



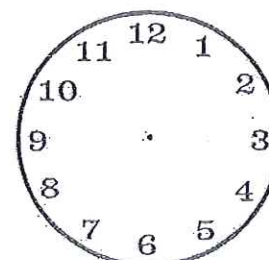
9.15



21.05



22.15



24.00