

Nome Cognome..... Data.....

1) Se di notte vogliamo orientarci e trovare ^{il} Nord, che cosa dobbiamo prendere in considerazione? ___/1

- La Luna;
- La Stella Polare;
- La Rosa dei Venti.

2) La bussola serve per: ___/1

- Trovare oggetti smarriti
- Costruire carte geografiche
- Orientarci in modo preciso.

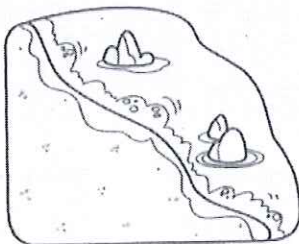
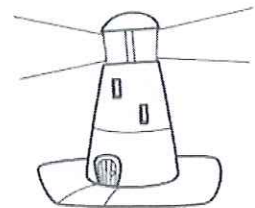

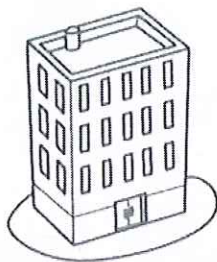
3) Completa: ___/4

il Sole sorge a _____ al mattino; a mezzogiorno lo possiamo vedere a _____; al tramonto, invece, possiamo vederlo a _____; di notte, quando il Sole non si vede, esso si trova a _____.

4) Collega con frecce (usa 4 colori diversi, uno per ogni punto cardinale). Attenzione, uno dei punti cardinali ha una doppia freccia: ___ /5

Ovest	Meridione
Est	Settentrione
Nord	Oriente
Sud	Occidente
	Mezzogiorno

5) Circonda di verde gli **elementi naturali** e di giallo gli **elementi artificiali** che vedi illustrati. ___ /7





Collega con una freccia il nome di ogni carta alla sua definizione

-16

- FISICA
- PLANISFERO
- TEMATICA
- POLITICA
- PIANTA
- TOPOGRAFICA

- Rappresenta industrie, coltivazioni e altri aspetti particolari di un territorio
- Rappresenta una zona poco estesa come un quartiere
- Rappresenta le suddivisioni del territorio ad opera dell'uomo
- Rappresenta una città o una zona abbastanza estesa
- Rappresenta tutta la superficie della terra
- Rappresenta gli elementi naturali del territorio

VOTO

- /24